

(اختبار الفترة الدراسية الثانية للصف التاسع المتوسط)

• أجب عن جميع الأسئلة التالية :

• السؤال الأول : ويتكون من (أ ، ب) :

• (أ) أكمل الفراغ بكلمة مناسبة مما درست :

١- الموارد الطبيعية التي لا يخشى عليها من النفاذ تسمى

٢- تحويل المواد الخام من صورة إلى أخرى يسهل استخدامها يسمى

٣- أبعد نقطة عن الشمس تصل إليها الأرض في مدارها تسمى

٤- يعرف وقوع القمر في مخروط ظل الأرض أو شبه ظلها في مدارها باسم

٥- تبلغ مساحة نسبة الماء على الكرة الأرضية حوالي

ب (اختر الإجابة الصحيحة من بين البدائل التي تلي كل عبارة في الجمل التالية :

١- الفترة الزمنية التي استمرت فيها اشتعال النيران في المئات من الآبار النفط الكويتية بعد انتهاء

حرب تحرير دولة الكويت حوالي :

(٦ شهور ، ٩ شهور ، ١٢ شهرا ، ١٨ شهرا)

٢- القمر الصناعي السوفييتي (لونا الثالث) تمكن من خلاله الإنسان تصوير الوجه الآخر للقمر في عام :

(١٩٥٩ م ، ١٩٦٩ م ، ١٩٧٩ م ، ١٩٨٩ م)

٣- سحبات كونية غازية متوهجة تتخللها المجرات اسمها :


(النيازك ، الشهب ، السدم ، النجوم)

٤- خط التاريخ الدولي يمثل بداية اليوم على الكرة الأرضية يحمل الرقم :

(٩٠° ، ١٨٠° ، ٣٦٠° ، ٤٥٠°)

٥- السهول هي أراضي مستوية على سطح الأرض تبلغ مساحتها حوالي :

(١٢% ، ١٤% ، ٣٣% ، ٤١%)



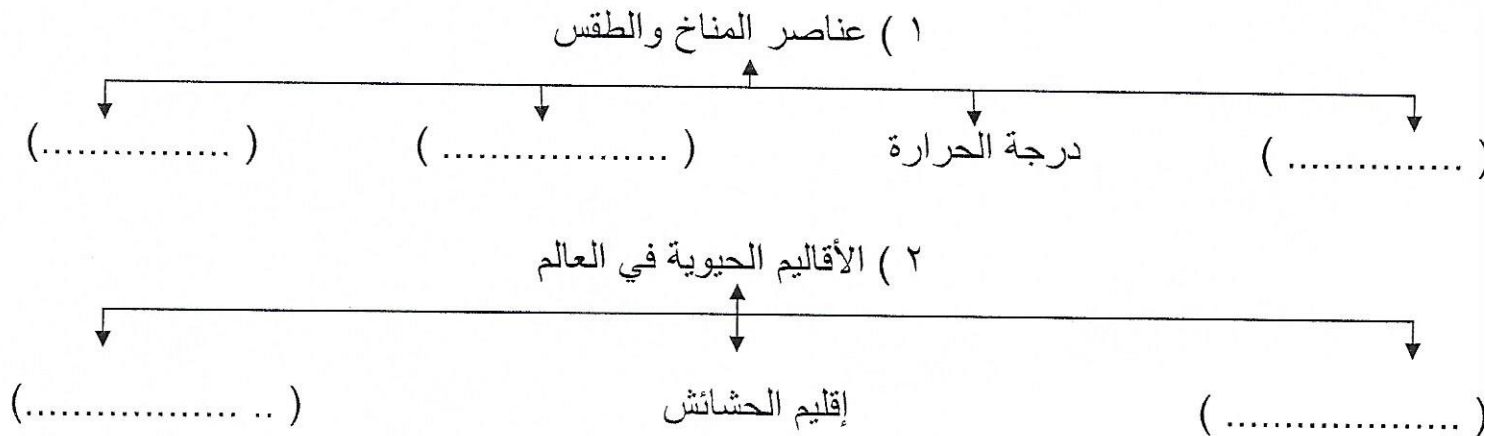
• السؤال الثاني : ويتكون من : (أ ، ب ، ج) :

أ - وزع مجموعة الكواكب التالية في الجدول التالي :

(المشتري ، عطارد ، بلوتو ، الزهرة)

مجموعة الكواكب الداخلية	مجموعة الكواكب الخارجية

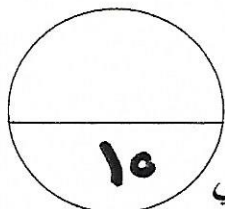
ب - أكمل المخططات السهمية الآتية :



ج - صنف أسباب التلوث حسب الجدول التالي :

(غازات عوادم السيارات والطائرات ، حرق نفايات المنشآت التجارية والمنزلية ، المجارى الصحية غير المعالجة ، المخلفات الصناعية والكيميائية والبشرية ، استخدام الأسمدة الكيميائية ، مخلفات ناقلات النفط والسفن التجارية)

تلوث الهواء	تلوث الماء	تلوث التربة



- السؤال الثالث : ويتكون من (أ ، ب ، ج) :
أ - عرف المفاهيم والمصطلحات التالية :

١ (النظام البيئي :

.....

٢ (تلوث التربة :

.....

٣ (الكسوف :

.....

٤ (الغلاف الجوي :

٥ (البيئة :

- ب - وضح أبرز نتائج الدورة المحورية للأرض :

١)

٢)

٣)

- ج - فرق بين كل من طبقات القشرة الأرضية :

طبقة السيل	طبقة السيم

• السؤال الرابع : ويتكون من : (أ ، ب ، ج) :

أ - علل لما يأتي علميا :

١ (حدوث ظاهرتي المد والجزر •

٢ (للقمر أوجه مختلفة ومنازل متعددة •

٣ (ظهور مشكلة التلوث البيئي عالميا •

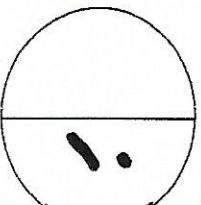
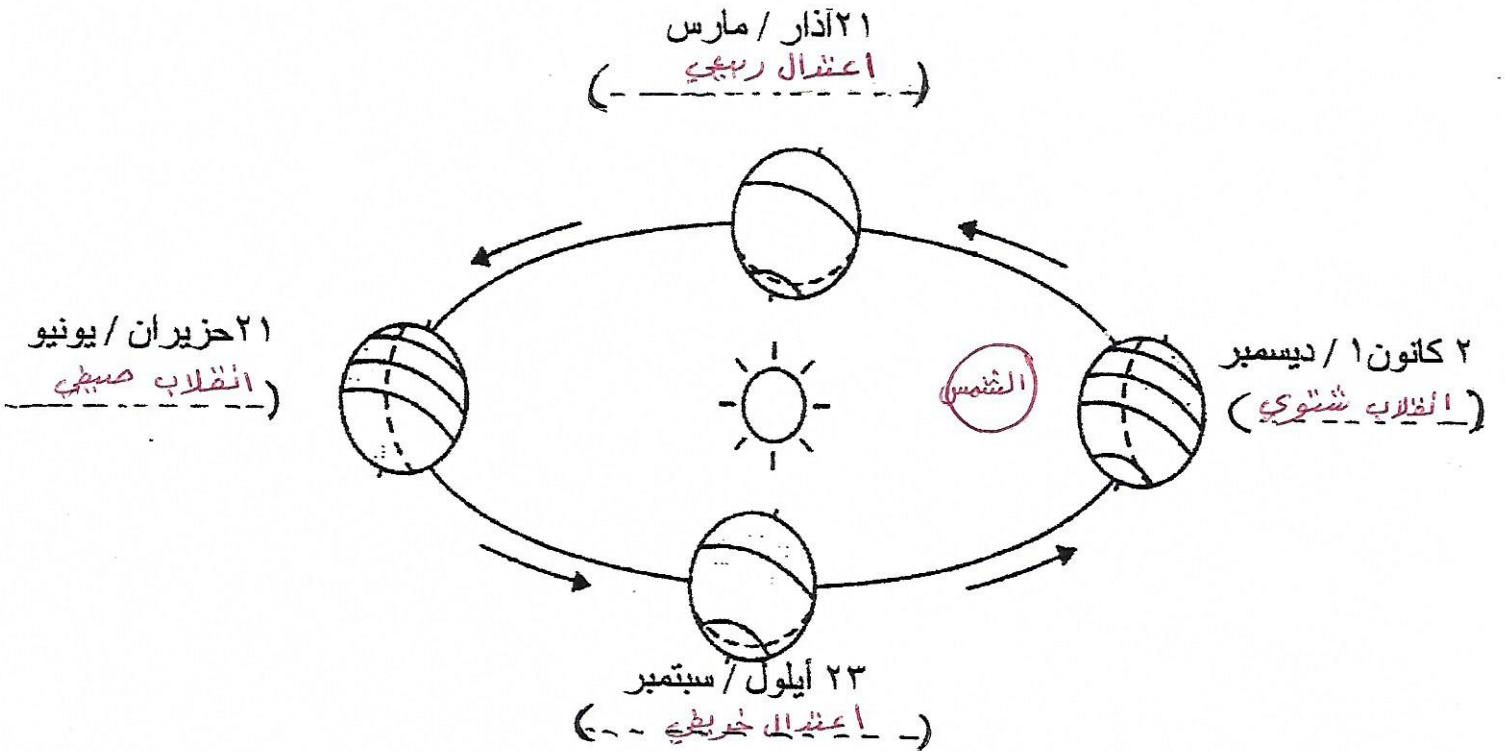
ب - عدد المقومات الأساسية التي تقوم عليها الزراعة في الدول •

(١)

(٢)

(٣)

ج - على الشكل المقابل أكمل أسماء الفصول الأربعة باتجاه دوران الأرض حول الشمس في نصف الكرة الشمالي فقط :

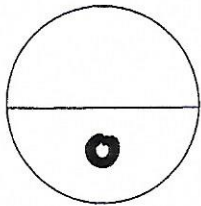


- السؤال الخامس : ويتكون من : (أ ، ب) :
أ - قارن بين الأقاليم المناخية التالية :

أوجه المقارنة	الأقاليم المناخية المعتدلة الباردة	الأقاليم المناخية الباردة
الموقع والامتداد		
الأمثلة		

ب- فرق بين التالي :

مجموعة المنتجات	مجموعة المحطات



درجة السؤال الخامس

..... انتهت الأسئلة مع تمنيات التوجيه الفني للأجتماعات لكم بالتوفيق