



ملاحظة: عدد أسئلة الورقة (سبعة) أسئلة، أجب عن (خمس) منها فقط، على أن يكون السؤال الأول إجبارياً.

السؤال الأول: (20 علامة)

يتكون هذا السؤال من (10) فقرات من نوع اختيار من متعدد، من أربعة بدائل، اختر البديل الصحيح، ثم انقله إلى دفتر الإجابة:
1. جسمان (A, B) لهما نفس الكتلة، إذا كانت الطاقة الحركية للجسم (A) تساوي مثلي الطاقة الحركية للجسم (B)، فكم يساوي زخم الجسم (A)؟

$(P_A = P_B)$ -

$(P_A = \sqrt{2}P_B)$ -

$(P_A = 4P_B)$ -

$(P_A = 2P_B)$ -

2. في التصادم عديم المرونة، كم تكون النسبة بين الطاقة الحركية للنظام قبل التصادم إلى الطاقة الحركية له بعد التصادم؟

(واحد صحيح) -

$(\text{أقل من واحد صحيح})$ -

(صفر) -

$(\text{أكبر من واحد صحيح})$ -

3. في تصادم بين كرتين، أثرت الكرة الأولى على الثانية بقوة مقدارها (100 N)، فتغير زخم الكرة الثانية بمقدار (0.5 N.s)، فما مقدار زمن تصادم الكرتين بوحدة (s)؟

(20) -

(0.005) -

(200) -

(50) -

4. أثرت قوة مماسية مقدارها (40 N) على حافة قرص نصف قطره (20 cm)، إذا علمت أن التسارع الزاوي للقرص يساوي (0.32 rad/s²)، ما القصور الدوراني له بوحدة (kg.m²)؟

(2.5) -

(0.25) -

(250) -

(25) -

5. يدور إطار قصوره الدوراني (I = 0.1 kg.m²) بسرعة زاوية (900 rev/min)، عندما يُوصل بمحور دورانه إطار آخر ساكن قصوره الدوراني (5I) ما مقدار السرعة الزاوية للإطارين معاً بوحدة (rad/s)؟

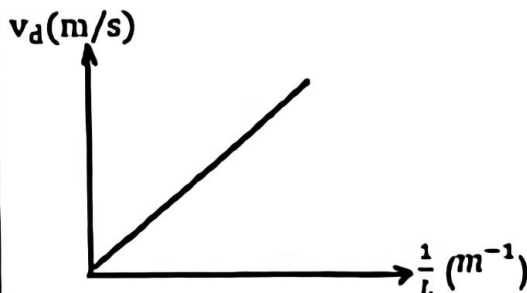
(2π) -

(π) -

(5π) -

(3π) -

6. موصل فلزي، الكثافة الحجمية للإلكترونات الحرة فيه (2 × 10²⁸ e/m³)، الشكل المجاور يمثل



موصول مع مصدر فرق جهد مقداره (10V)، الشكل المجاور يمثل

العلاقة بين السرعة الانسيابية للإلكترونات الحرة فيه ومقلوب طوله،

فإذا كان ميل الخط المستقيم الممثل لهذه العلاقة يساوي (5)، فما

موصولية السلك بوحدة (Ω⁻¹.m⁻¹)؟

(1.6×10^9) -

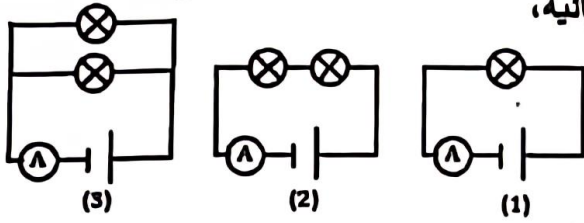
(1.6×10^{-9}) -

(6.25×10^{-9}) -

(6.25×10^9) -

7. يبين الشكل المجاور خمسة مصابيح متماثلة في ثلاث دوائر كهربائية، وصلت مع بطاريات متماثلة مقاومتها الداخلية مهملة.

ما الترتيب التصاعدي للدوائر الكهربائية وفق قراءة الأميتر (A) في كل منها؟



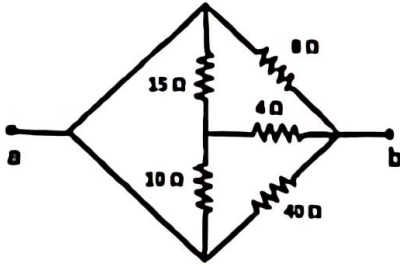
$$(2 < 1 < 3) -$$

$$(1 = 2 = 3) -$$

$$(3 < 2 < 1) -$$

$$(2 < 3 < 1) -$$

8. في الشكل المجاور، ما مقدار المقاومة المكافئة بين النقطتين (a, b)؟



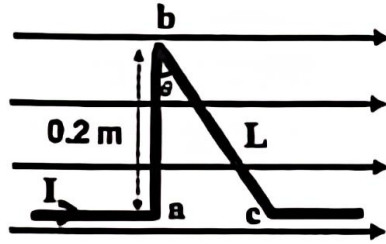
$$(3) -$$

$$(2) -$$

$$(6) -$$

$$(4) -$$

9. في الشكل المجاور: إذا كانت شدة التيار الكهربائي المار في



السلك (2A) وشدة المجال المغناطيسي المنتظم (0.1T)، فما مقدار واتجاه

القوة المغناطيسية المؤثرة في الجزء (bc) من السلك بوحدة نيوتن؟

$$(0.04) - \text{باتجاه } (-Z)$$

$$(0.04) - \text{باتجاه } (+Z)$$

$$(0.02) - \text{باتجاه } (-Z)$$

$$(0.02) - \text{باتجاه } (+Z)$$

10. سلك فلزي طوله (L) متر على شكل حلقة فليزية بلفة واحدة، مرّ فيها تيار كهربائي شدته (1A)، فكانت شدة

المجال المغناطيسي في مركزها (B). إذا لفّ نفس السلك لتكوين ملف دائري عدد لفاته (N) لفة ومرّ فيه نفس شدة

التيار الكهربائي، فأصبحت شدة المجال المغناطيسي في مركزه (4B)، فما عدد لفات الملف الدائري (N)؟

$$(1 \text{ لفة}) -$$

$$\left(\frac{1}{2} \text{ لفة}\right) -$$

$$(4 \text{ لفة}) -$$

$$(2 \text{ لفة}) -$$

السؤال الثاني: (20 علامة)

(6 علامات)

(أ) وضّح المقصود بكل مما يأتي:

3. قانون أمبير

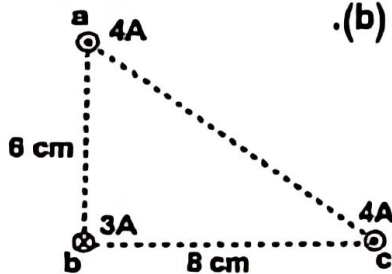
2. الهبوط في الجهد

1. نظرية الدفع- الزخم

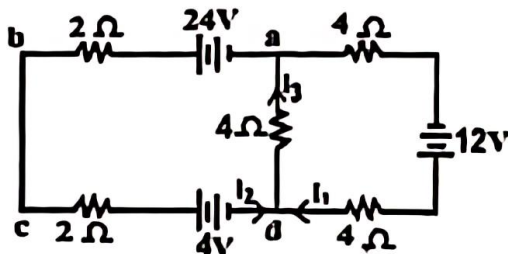
(5 علامات)

(ب) يمثل الشكل المجاور ثلاثة أسلاك مستقيمة طويلة جداً يسري في كل منها تيار كهربائي.

احسب مقدار واتجاه القوة المغناطيسية المؤثرة في وحدة الطول من السلك (b).



(9 علامات)



(ج) في الدارة الكهربائية المجاورة: احسب:

1. شدة التيارات الكهربائية (I_1, I_2, I_3).

2. القدرة الداخلة في الفرع (abcd).

السؤال الثالث: (20 علامة)

- (أ) علّل ما يأتي:
1. في آلة لف الصفائح المعدنية يتم استخدام أسطوانات ذات قطر كبير وكتلة كبيرة نسبياً تثبت إلى جذع الآلة.
 2. قياس مقدار مقاومة مجهولة باستخدام قانون أوم يكون أقل دقة من استخدام قنطرة ويتستون.
 3. شدة المجال المغناطيسي عند أي نقطة على امتداد سلك طويل يحمل تياراً كهربائياً يساوي صفراً.
- (ب) جسيم مشحون بشحنة مقدارها $(3.2 \times 10^{-19} C)$ ، وكتلته $(4 \times 10^{-28} kg)$ ، يدور بسرعة ثابتة مقدارها $(1 \times 10^7 m/s)$ في مسار دائري متعامد مع مجال مغناطيسي منتظم شدته $(0.1 T)$ ، احسب: (7 علامات)
1. نصف قطر المسار الدائري للجسيم.
 2. الزمن الدوري لحركة الجسيم.
 3. الطاقة الحركية للجسيم بعد أن يتم (100) دورة داخل المجال المغناطيسي.
- (ج) جسم كتلته $(5 kg)$ يتحرك في خط مستقيم بسرعة $(20 m/s)$ على سطح أفقي أملس، فإذا اصطدم به عمودياً جسم آخر كتلته $(10 kg)$ يتحرك على نفس السطح بسرعة $(30 m/s)$ ، والتصق الجسمان وسارا معاً كجسم واحد، احسب: (7 علامات)
1. سرعة الجسمين المتصقين بعد التصادم مباشرة مقداراً واتجهاً.
 2. نسبة التغير في الطاقة الحركية نتيجة التصادم إلى الطاقة الحركية الأصلية للجسمين قبل التصادم مباشرة.

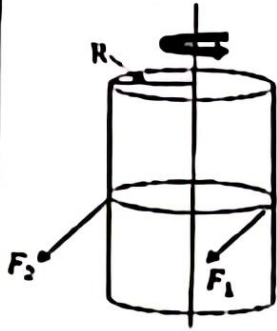
السؤال الرابع: (20 علامة)

- (أ) جسم كتلته $(4 kg)$ يستقر على سطح أفقي أملس، أثرت عليه قوة متغيرة مثلت بيانياً مع الزمن كما في الشكل المجاور، اعتماداً على البيانات المثبتة عليه، احسب:
1. دفع القوة خلال $(30 s)$.
 2. سرعة الجسم عند الزمن $(10 s)$ من بدء الحركة.
- (ب) ملف حلزوني يسري به تيار كهربائي شدته $(5 A)$ ، أثر عليه مجال مغناطيسي منتظم خارجي شدته $(2 \times 10^{-5} T)$ نحو $(+X)$ ، فكانت محصلة المجال المغناطيسي عند النقطة (a) التي تقع على محور الملف الحلزوني $(3 \times 10^{-5} T)$ نحو $(-X)$ ، أجب عما يأتي:
1. اتجاه التيار الكهربائي في المقاومة (R) .
 2. عدد لفات الملف الحلزوني لكل وحدة طول.
- (ج) فرن كهربائي مكتوب عليه: $(2000W, 200V)$ ، صُنِعت مقاومته من سلك فلزي مساحة مقطعه العرضي $(0.2 mm^2)$ وموصلية مادته $(5 \times 10^7 \Omega^{-1} \cdot m^{-1})$ ، إذا تم تشغيله على فرق جهد $(200V)$ ، احسب: (8 علامات)
1. أكبر تيار كهربائي يمر في مقاومة الفرن.
 2. طول السلك الفلزي الذي صُنِعت منه مقاومة الفرن.
 3. تكاليف تشغيل الفرن الكهربائي لمدة شهر بمعدل (3) ساعات يومياً، علماً بأن سعر الكيلو واط ساعة (10) قروش.

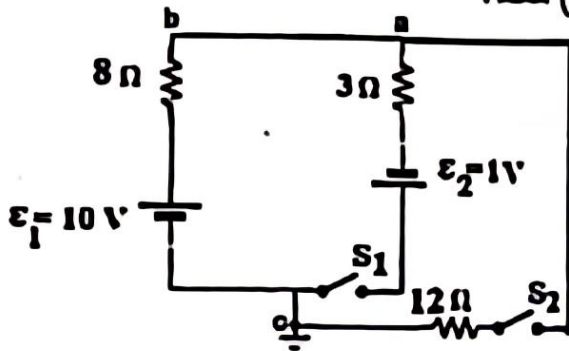
السؤال الخامس: (20 علامة)

- (أ) الشكل المجاور يبين أسطوانة مصمتة قائمة، كتلتها (M) ونصف قطر قاعدتها (R)، قابلة للدوران حول محورها، أثرت عليها القوتان المماسيتان: (F_1, F_2) ، حيث $(F_2 = 2 F_1)$ ، و $(I_{\text{محور}} = \frac{1}{2} MR^2)$. (7 علامات)
- أثبت أن: الطاقة الحركية الدورانية للأسطوانة بعد ثابنتين من بدء دورانها من السكون تعطى بالعلاقة:

$$K = \frac{4F_1^2}{M}$$



- (ب) الشكل المجاور يبين دارة كهربائية، معتمداً على البيانات المثبتة على الشكل، جد:
1. جهد النقطة (b) عندما يكون المفتاح (S_1) مفتوحاً، والمفتاح (S_2) مغلقاً.
 2. القدرة المستفدة في المقاومة (3Ω) عندما يكون المفتاح (S_2) مفتوحاً، والمفتاح (S_1) مغلقاً.



- (ج) جسم ساكن كتلته (2Kg) موضوع على سطح أفقي أملس، أثرت عليه قوة فأكسبته طاقة حركية مقدارها (324) جول، ثم توقف تأثير القوة، فتابع الجسم حركته حتى التحم مع جسم آخر ساكن على نفس السطح كتلته (3 kg)، وتحرك الجسمان معاً، جد:
1. سرعة الجسمين بعد الالتحام مباشرة.
 2. التغير في طاقة حركة النظام.

السؤال السادس: (20 علامة)

- (أ) في الشكل المقابل تنزلق كتلة (m_1) من السكون من ارتفاع (h) على مسار أملس، وعند أسفل المسار تصطدم اصطداماً مرناً بكتلة أخرى ساكنة (m_2) ، فإذا كانت $(m_2 = 2m_1)$ ، أثبت أن سرعة الكتلة (m_2) بعد الاصطدام مباشرة تعطى بالعلاقة:

$$v_{2f} = \frac{4}{3} \sqrt{\frac{gh}{2}}$$

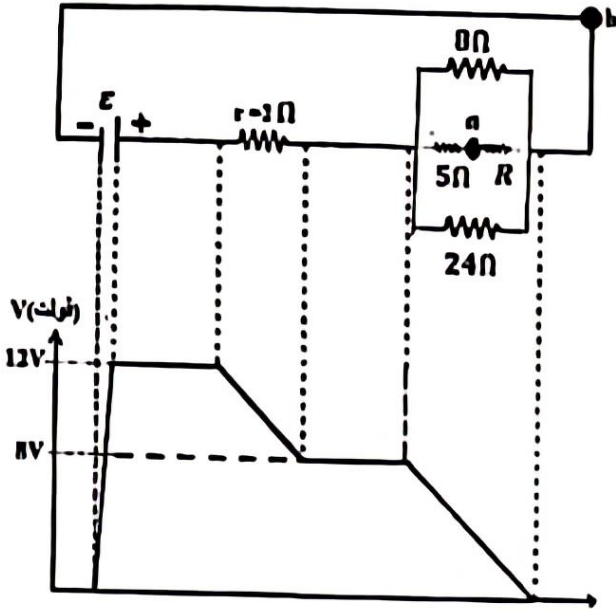


- (ب) يدور قرص كتلته (2kg) ونصف قطره (10 cm) حول محور يمر من مركزه وعمودياً على مستواه بسرعة زاوية مقدارها (5 rad/s)، فإذا أصبحت سرعته الزاوية (15 rad/s) بعد (10 s) من بدء الحركة، احسب: (6 علامات)
1. التغير في الزخم الزاوي للقرص خلال (10 sec).
 2. عزم الدوران الكلي خلال (10 sec). (علماً أن عزم القصور الدوراني له $(I = \frac{1}{2} MR^2)$).

تابع السؤال السادس:

(7 علامات)

(ج) يمثل الشكل المجاور تخطيطاً يوضح التغيرات في الجهد في دارة كهربائية بسيطة.



عند الحركة عبر الدارة باتجاه عكس عقارب الساعة، جد:

1. مقدار المقاومة (R).
2. فرق الجهد بين النقطتين a و b (V_{ab}).
3. القدرة المستفدة في البطارية.

السؤال السابع: (20 علامة)

(6 علامات)

(أ) في ضوء دراستك لجهاز الميكلترون وجهاز منتقي السرعات، قارن بين:

1. اتجاه المجال الكهربائي بالنسبة لاتجاه سرعة الجسم المشحون في كلا الجهازين.
2. تزامن تأثير المجال الكهربائي والمغناطيسي على الجسم المشحون في كلا الجهازين.

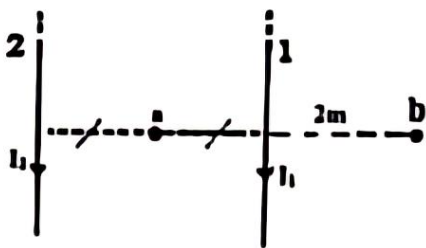
(ب) ملف دائري موضوع في مستوى أفقي نصف قطره ($\pi \text{ cm}$) وعدد لفاته (10 لفات) يسري فيه تيار كهربائي شدته (0.1 A) عكس اتجاه عقارب الساعة، يؤثر عليه مجال مغناطيسي خارجي شدته ($3 \times 10^{-5} \text{ T}$) نحو (+X)، احسب:

(6 علامات)

1. محصلة المجال المغناطيسي في مركز الملف الدائري.
2. القوة المغناطيسية المؤثرة على بروتون لحظة مروره من مركز الملف الدائري بسرعة ($2 \times 10^5 \text{ m/s}$) نحو (+X).

(ج) يبين الشكل المجاور، سلكين مستقيمين لانهايين طويلين جداً ومتوازيين والمسافة بينهما (2 m)، يمر في كل

منهما تيار كهربائي وفي نفس الاتجاه، فإذا انعدمت شدة المجال المغناطيسي عند نقطة في منتصف المسافة بينهما، وكانت القوة المؤثرة على وحدة الأطوال من أي من السلكين ($4 \times 10^{-5} \text{ N/m}$). احسب: (8 علامات)



1. شدة التيار المار في كل من السلكين.
2. القوة المغناطيسية المؤثرة على بروتون يتحرك بسرعة ($6 \times 10^6 \text{ m/s}$) باتجاه (+Y) في نفس مستوى السلكين، عند مروره بالنقطة (b) التي تبعد عن السلك الأول مسافة (2 m).

$$q_e = 1.6 \times 10^{-19} \text{ C}$$

$$g = 10 \text{ m/s}^2$$

$$\mu_0 = 4\pi \times 10^{-7} \text{ T.m/A}$$

انتهت الأسئلة



لتحميل المزيد من موقع المكتبة الفلسطينية الشاملة

<http://www.sh-pal.com>

تابعنا على صفحة الفيس بوك: www.facebook.com/shamela.pal

تابعنا على قنوات التلجرام: www.sh-pal.com/p/blog-page_42.html

أقسام موقع المكتبة الفلسطينية الشاملة:

الصف الأول: www.sh-pal.com/p/blog-page_24.html

الصف الثاني: www.sh-pal.com/p/blog-page_46.html

الصف الثالث: www.sh-pal.com/p/blog-page_98.html

الصف الرابع: www.sh-pal.com/p/blog-page_72.html

الصف الخامس: www.sh-pal.com/p/blog-page_80.html

الصف السادس: www.sh-pal.com/p/blog-page_13.html

الصف السابع: www.sh-pal.com/p/blog-page_66.html

الصف الثامن: www.sh-pal.com/p/blog-page_35.html

الصف التاسع: www.sh-pal.com/p/blog-page_78.html

الصف العاشر: www.sh-pal.com/p/blog-page_11.html

الصف الحادي عشر: www.sh-pal.com/p/blog-page_37.html

الصف الثاني عشر: www.sh-pal.com/p/blog-page_33.html

ملازم للمتقدمين للوظائف: www.sh-pal.com/p/blog-page_89.html

شارك معنا: www.sh-pal.com/p/blog-page_40.html

اتصل بنا: www.sh-pal.com/p/blog-page_9.html