



الأسئلة

أولاً : الجغرافيا

س ١ : اكمل العبارات الآتية

- ١ - قسم العلماء سطح الأرض إلى حتى يسهل عليهم دراسة المناخ.
- ٢ - تقل الحرارة درجة مئوية كلما ارتفعنا متر عن مستوى سطح البحر .
- ٣ - تحدث نتيجة اختلاف الحرارة على اليابس و الماء أثناء الليل و النهار.
- ٤ - يحدث المطر نتيجة اصطدام الرياح المحملة ببخار الماء بالمرتفعات.
- ٥ - هو وصف حالة الجو خلال فترة زمنية قصيرة
- ٦ - هو وصف حالة الجو خلال فترة زمنية طويلة.
- ٧ - عناصر المناخ هى و و
- ٨ - يتميز الأقليم الإستوائى بأن أمطاره طول العام
- ٩ - يمتاز إقليم البحر المتوسط بأنه صيفا و شتاء
- ١٠ - الرياح تنقسم إلى و و و
- ١١ - معرفة حالة الجو فى فترة زمنية قصيرة قد تكون يوم إلى أسبوع
- ١٢ - معرفة حالة الجو فى فترة زمنية طويلة شهرا أو فصلا أو سنه
- ١٣ - من أنواع الرياح الدائمة و و
- ١٤ - تعتبر هى أهم عناصر المناخ
- ١٥ - ترتفع درجة الحرارة عند دائرة الأستواء لأن أشعة الشمس تكون
- ١٦ - تمتد المنطقة الحارة بين مدار ومدار
- ١٧ - تهب الرياح التجارية من دائرة عرض ش ، ج وتتجه صوب خط



- ١٨ - يسقط المطر التصاعدى على المنطقة
- ١٩ - تتميز الصحراء الكبرى بأنها المطر
- ٢٠ - الفرق بين درجة حرارة الليل و النهار يسمى وبين درجة حرارة الصيف و الشتاء يسمى
- ٢١ - يسود الاقليم فى معظم أنحاء مصر .
- ٢٢ - تهب الرياح القطبية من منطقة الضغط المرتفع عند متجهة إلى منطقة الضغط عند الدائرتين القطبيتين الشمالية والجنوبية .
- ٢٣ - الغابات تخلص الأرض من الملوثات من خلال إمتصاصها
- ٢٤ - نتج عن إزالة الانسان للغابات حدوث خلل فى
- ٢٥ - غابات البحر المتوسط أشجارها الخضرة ، تتحمل
- ٢٦ - الغابات الصنوبرية غابات دائمة
- ٢٧ - من أنواع الطيور والحيوانات فى الغابات النفضية ، ،
- ٢٨ - الحشائش طويلة تختلف فى طولها وكثافتها حسب كمية المطر
- ٢٩ - الحشائش المعتدلة تصلح كمراعى طبيعية لـ و
- ٣٠ - النباتات تتحمل ظروف الجفاف وشدة المناخ

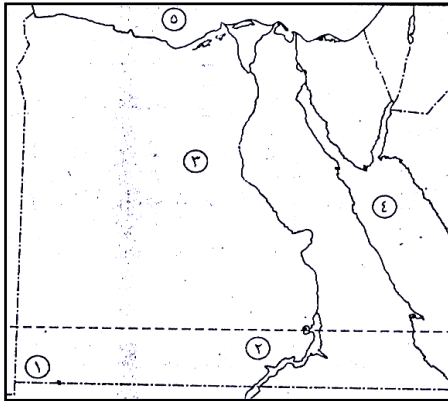
س٢:- بما تفسر:

- ١ - تعتبر الحرارة أهم عناصر المناخ
- ٢ - تتميز الأماكن القريبة من دائرة الأستواء بارتفاع درجة حرارتها
- ٣ - يغطى الجليد قمم الجبال العالية بالرغم من وقوعها فى المنطقة الحارة
- ٤ - تلطف الرياح التجارية من درجة حرارة المناطق التى تهب عليها
- ٥ - الرياح الموسمية الصيفية رياح ممطرة
- ٦ - تقسيم العلماء الأرض إلى أقاليم مناخية

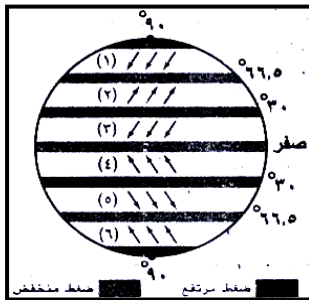


- ٧ - سقوط الأمطار صيفاً على الاقليم المسمى .
- ٨ - يتميز الاقليم الصحراوى بأنه حار صيفاً وشديد البرودة شتاءً .
- ٩ - ارتفاع الحرارة طوال العام بالاقليم الاستوائى .
- ١٠ - تنوع النبات الطبيعى على سطح الأرض .
- ١١ - أهمية الغابات لتقليل التلوث .
- ١٢ - سقوط الأمطار طوال العام على الاقليم المعتدل البحرى .
- ١٣ - انخفاض درجة الحرارة فى الاقليم اللورانسى شتاءً .
- ١٤ - تعتبر السافانا حديقة حيوان طبيعية .

الخريطة



اكتب ما تدل عليه الأرقام



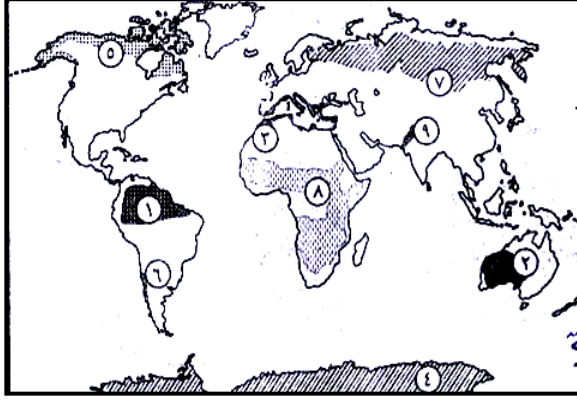
(٢) أمامك شكل تخطيطى للكورة الأرضية موضح عليه

توزيع الرياح الدائمة ، اكتب ما تدل عليه الأرقام التى عليه :

- | | |
|----------------|----------------|
| رياح (١) | رياح (٢) |
| رياح (٣) | رياح (٤) |
| رياح (٥) | رياح (٦) |



(٣) أمامك خريطة صماء للعالم ، اكتب ما تدل عليه الأرقام الآتية :



(١) إقليم مناخى

(٢) إقليم مناخى

(٣) إقليم مناخى

(٤) إقليم مناخى

(٥) إقليم نباتى

(٦) غابات

(٧) غابات

(٨) حشائش

(٩) حشائش



ثانياً : التاريخ

الوحدة الثالثة : الحياة الإجتماعية والفكرية

السؤال الأول:- أكمل العبارات الآتية :

- ١ - من أدوات الزينة عند المصريين القدماء و و
- ٢ - تنقسم الأعياد إلى و و و و
- ٣ - تميز القصر الفرعونى بـ
- ٤ - انقسم المجتمع المصرى القديم إلى طبقات
- ٥ - طبقات المجتمع هى
- ٦ - حياة إجتماعية
- ٧ - بنى المصري القديم مسكنه من
- ٨ - من الأعياد الدينية عند الفراعنة و الأعياد الاجتماعية و الأعياد السياسية و الأعياد العسكرية و الاقتصادية
- ٩ - صنع المصرى القديم ملابسه من و استورد الحرير من
- ١٠ - عرف المصرى القديم الأغانى و و
- ١١ - الكتابة التى استخدمت فى تسجيل النصوص الدينية فى مصر هى
- ١٢ - قصة سنوحى من الأدب
- ١٣ - من أشهر حكماء مصر القديمة الحكيم
- ١٤ - الخط الرسمى للدولة فى مصر القديمة هو الخط
- ١٥ - استخدم المصرى القديم فى الكتابة ورق
- ١٦ - من أنواع الأدب الدينى و و و
- ١٧ - يتناول الأدب الدينى و و





١٨ - يتضمن الأدب القصصى بعض القصص و

١٩ - من أشهر المعابد الجنائزية

٢٠ - مقبرة الملكة من أجمل المقابر التى توضح التصوير على الجدران .

بم تفسر :

(١) تسمية المجتمع المصرى القديم بالمجتمع الطبقي الهرمى الشكل .

(٢) احتلت المرأة فى مصر القديمة مكانة مهمة فى الاسرة .

(٣) تسمية الكتابة الهيروغليفية بالخط المقدس .

(٤) اهتمام المصرى القديم بعلم الحساب .

(٥) اهتمام المصريين القدماء بالأدب التهذيبى .



الإجابات

أولاً : الجغرافيا

س ١ : اكمل العبارات الآتية

- ١ - قسم العلماء سطح الأرض إلى ... أقاليم مناخية ... حتى يسهل عليهم دراسة المناخ.
- ٢ - تقل الحرارة ... ١ .. درجة مئوية كلما أرتفعنا ... ١٥٠ .. متر عن مستوى سطح البحر
- ٣ - تحدث ... الرياح اليومية ... نتيجة اختلاف الحرارة على اليابس و الماء أثناء الليل و النهار.
- ٤ - يحدث المطر ... التضاريسى ... نتيجة اصطدام الرياح المحملة ببخار الماء بالمرتفعات.
- ٥ - ... الطقس ... هو وصف حالة الجو خلال فترة زمنية قصيرة .
- ٦ - ... المناخ ... هو وصف حالة الجو خلال فترة زمنية طويلة.
- ٧ - عناصر المناخ هى ... الحرارة و الضغط ... و ... الرياح ... و ... الأمطار ...
- ٨ - يتميز الأقليم الإستوائى بأن أمطاره ... غزيرة ... طول العام
- ٩ - يمتاز إقليم البحر المتوسط بأنه ... حار جاف ... صيفا و ... دفيء ممطر ... شتاء
- ١٠ - الرياح تنقسم إلى ... دائمة ... و ... موسمية ... و ... محلية ... و ... يومية ...
- ١١ - معرفة حالة الجو فى فترة زمنية قصيرة قد تكون يوم إلى أسبوع ... الطقس ...
- ١٢ - معرفة حالة الجو فى فترة زمنية طويلة شهرا أو فصلا أو سنه ... المناخ ...
- ١٣ - من أنواع الرياح الدائمة ... تجارية ... و ... عكسية ... و ... قطبية ...
- ١٤ - تعتبر ... الحرارة ... هى أهم عناصر المناخ
- ١٥ - ترتفع درجة الحرارة عند دائرة الأستواء لأن أشعة الشمس تكون ... عمودية ...
- ١٦ - تمتد المنطقة الحارة بين مدار ... السرطان ... ومدار ... الجدي ...



١٧ - تهب الرياح التجارية من دائرة عرض ... ٣٠° ... ش ، ج وتتجه صوب دائرة

..الأستواء..

١٨ - يسقط المطر التصاعدى على المنطقة ... الأستوائية ...

١٩ - تتميز الصحراء الكبرى بأنها ... نادرة ... المطر

٢٠ - الفرق بين درجة حرارة الليل و النهار يسمى ... المدى الحرارى اليومى ... وبين

درجة حرارة الصيف و الشتاء يسمى ... المدى الحرارى السنوى ...

٢١ - يسود الاقليم المدارى الحار فى معظم انحاء مصر .

٢٢ - تهب الرياح القطبية من منطقة الضغط المرتفع عند القطبين متجهة إلى منطقة

الضغط المنخفض عند الدائرتين القطبيتين الشمالية والجنوبية .

٢٣ - الغابات تخلص الأرض من الملوثات من خلال إمتصاصها للكربون .

٢٤ - نتج عن إزالة الانسان للغابات حدوث خلل فى النظام البيئى

٢٥ - غابات البحر المتوسط أشجارها دائمة الخضرة ، تتحمل الجفاف .

٢٦ - الغابات الصنوبرية غابات دائمة الخضرة .

٢٧ - من أنواع الطيور والحيوانات فى الغابات النفضية الطيور ، السنجاب ، القطط ، ال ..

٢٨ - الحشائش الحارة طويلة تختلف فى طولها وكثافتها حسب كمية المطر

٢٩ - الحشائش المعتدلة تصلح كمراعى طبيعية لـ الأغنام و الماشية

٣٠ - النباتات الصحراوية تتحمل ظروف الجفاف وشدة المناخ

س٢ :- بما تفسر:

١ - تعتبر الحرارة أهم عناصر المناخ

- لأن إختلاف الحرارة من مكان لآخر يؤدى إلى تشكيل الحياة على سطح الأرض .

- لأختلاف باقى عناصر المناخ .

٢ - تتميز الأماكن القريبة من دائرة الأستواء بأرتفاع درجة حرارتها

لأن أشعة الشمس تكون عمودية على دائرة الأستواء ومائلة كلما أبتعدنا عنه



٣ - يغطى الجليد قمم الجبال العالية بالرغم من وقوعها فى المنطقة الحارة

بسبب عامل الارتفاع فكلما أرتفعنا ١٥٠ متر عن سطح البحر تقل الحرارة ١ درجة واحدة مئوية.

٤ - تلطف الرياح التجارية من درجة حرارة المناطق التى تهب عليها .

لأنها تأتى من مناطق أقل حرارة إلى مناطق أكثر حرارة

٥ - الرياح الموسمية الصيفية رياح ممطرة.

لأنها تهب من الماء إلى اليابس فتكون محملة ببخار الماء .

٦ - تقسيم العلماء الأرض إلى أقاليم مناخية.

حتى يسهل دراسة المناخ على سطح الأرض .

٧ - سقوط الأمطار صيفاً على الاقليم المسمى .

بسبب هبوب الرياح الموسمية الصيفية الممطرة فى فصل الصيف .

٨- يتميز الاقليم الصحراوى بأنه حار صيفاً وشديد البرودة شتاءً .

لأن المدى الحرارى اليومى والسنوى الكبير .

٩- ارتفاع الحرارة طوال العام بالاقليم الاستوائى .

لأنه يمتد على جانبى دائرة خط الاستواء فيما بين دائرتى عرض ١٠° و ١٠° شمال وجنوب دائرة الاستواء .

١٠- تنوع النبات الطبيعى على سطح الأرض .

بسبب تنوع درجات الحرارة - اختلاف كميات المطر .

١١- أهمية الغابات لتقليل التلوث .

لأن الغابات تخلص الأرض من الملوثات وتحافظ على التوازن البيئى من خلال امتصاصها لثانى أكسيد الكربون .

١٢- سقوط الأمطار طوال العام على الاقليم المعتدل البحرى .

بسبب وقوعه فى نطاق الرياح العكسيه الغربية .



١٣- انخفاض درجة الحرارة فى الاقليم اللورانس شتاءً .

بسبب امتداده بين دائرتى عرض ٤٥° ، ٦٠° شمال شرق القارات .

١٤- تعتبر السافانا حديقة حيوان طبيعية .

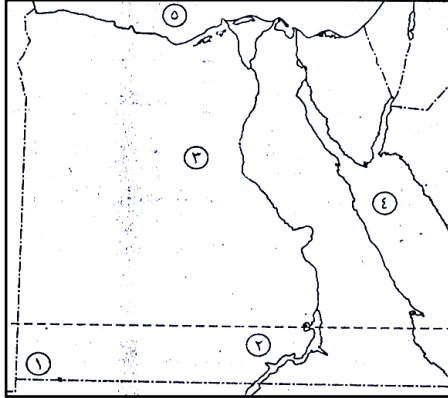
لأنه يعيش بها :

١- حيوانات أكلة العشب مثل الغزلان - الزراف - الفيلة .

٢- حيوانات أكلة اللحوم مثل الأسود والنمور والضباع

الخريطة

أكتب ما تدل عليه الأرقام



٢- مدار السرطان

١- دائرة عرض (٢٢)

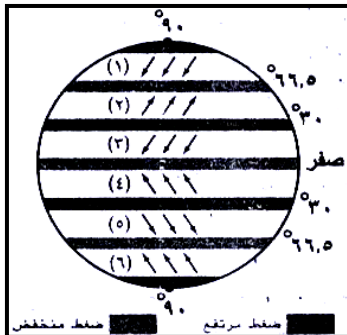
٤- البحر الأحمر

٣- الصحراء الغربية

٥- البحر المتوسط

(٢) أمامك شكل تخطيطى للكورة الأرضية موضح عليه

توزيع الرياح الدائمة ، اكتب ما تدل عليه الأرقام التى عليه :



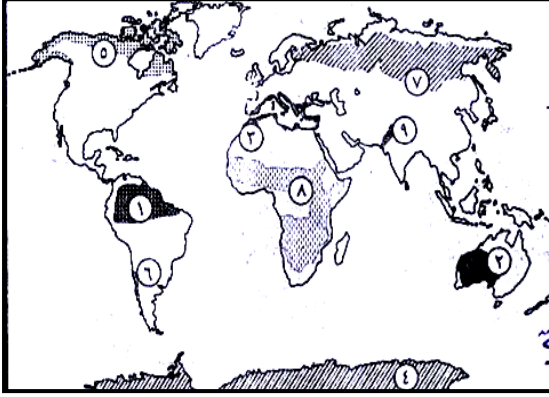
(١) رياح قطبية شمالية (٢) رياح عكسية شمالية

(٣) رياح تجارية شمالية (٤) رياح تجارية جنوبية

(٥) رياح عكسية جنوبية (٦) رياح قطبية جنوبية



(٣) أمامك خريطة صماء للعالم ، اكتب ما تدل عليه الأرقام الآتية :



(١) إقليم مناخى استوائي

(٢) إقليم مناخى صحراوي

(٣) إقليم مناخى البحر المتوسط

(٤) إقليم مناخى البارد

(٥) إقليم نباتى تندرا

(٦) غابات معتدلة باردة

(٧) غابات الصنوبرية

(٨) حشائش السافانا

(٩) حشائش الاستبس



ثانياً : التاريخ

الوحدة الثالثة: الحياة الإجتماعية والفكرية

السؤال الأول:- أكمل العبارات الآتية

- ١- من أدوات الزينة عند المصريين القدماء... العقود... و... الأساور... و... الكحل...
- ٢- تنقسم الأعياد إلى... دينية... و... اجتماعية... و... اقتصادية... و... عسكرية... و... سياسية...
- ٣- تميز القصر الفرعونى بـ... العلو و الفخامة و الإتساع...
- ٤- انقسم المجتمع المصرى القديم إلى... ٤... طبقات
- ٥- طبقات المجتمع هى... الفئات التى يتكون منها المجتمع و العلاقات السائدة بينها....
- ٦- حياة إجتماعية... مجموعة من العادات و التقاليد التى تتمسك بها طبقات الشعب فى المجتمع....
- ٧- بنى المصرى القديم مسكنه من... الطوب اللبن...
- ٨- من الأعياد الدينية عند الفراعنة... أمون... و الأعياد الاجتماعية... الربيع (شم النسيم).. و الأعياد السياسية... جلوس فرعون على العرش... و الأعياد العسكرية... عيد النصر... و الاقتصادية... عيد الحصاد...
- ٩- صنع المصرى القديم ملابسه من... الكتان... و استورد الحرير من... سوريا...
- ١٠- عرف المصرى القديم الأغانى... الوطنية... و... الشعبية... و... الدينية...
- ١١- الكتابة التى استخدمت فى تسجيل النصوص الدينية فى مصر هى... الهيروغليفية...
- ١٢- قصة سنوحى من الأدب... القصصى الواقعى...
- ١٣- من أشهر حكماء مصر القديمة الحكيم... بتاح حتب...



١٤- الخط الرسمى للدولة فى مصر القديمة هو الخط... المقدس (الكتابة الهيروغليفية)

١٥- استخدم المصرى القديم فى الكتابة ورق... البردى...

١٦- من أنواع الأدب الدينى... نصوص الأهرام... و... كتاب الموتى... و... أناشيد اخناتون... و... الأسطورة...

١٧- يتناول الأدب الدينى... الحياة بعد الموت... و... عقيدة البعث... و... الخلود...

١٨- يتضمن الأدب القصصى بعض القصص... الواقعية... و... الخيالية...

١٩- من أشهر المعابد الجنائزية الرمسيوم .

٢٠- مقبرة الملكة نفرتارى من أجمل المقابر التى توضح التصوير على الجدران .

بم تفسر :

(١) لأن المجتمع المصرى تكون من عدة طبقات على شكل هرم وهى الطبقة العليا للدولة ويمثلها الفرعون وأسرته وطبقة كبار رجال الدولة ويمثلها الوزراء وكبار الكهنة والكتبة وحكام الأقاليم والطبقة الوسطى ويمثلها صغار الموظفين والتجار وأصحاب الحرف المتميزون والطبقة الدنيا ويمثلها عمال الزراعة والحرفيون والرعاة .

(٢) لأن المرأة هى التى تشرف على شئون البيت وتتولى تربية الابناء وتساعد زوجها فى بعض الأعمال وكان لها حق الوراثة والشهادة والتعاقد والبيع والشراء .

(٣) لأنها استخدمت فى النقش على جدران المعابد والمقابر وتسجيل النصوص الدينية .

(٤) لمعرفة مساحة الأراضى الزراعية - مواسم الزراعة - كمية المحاصيل الزراعية - تنظيم مياه النيل - المعاملات التجارية - تسجيل رواتب الجنود والموظفين - حصر غنائم الحروب .

(٥) لأن الأدب التهذيبى أدب الحكم والنصائح والسلوك والتربية والأخلاق فهو يتناول التعاليم والوصايا التى تهدف إلى الموعظة والنصح .