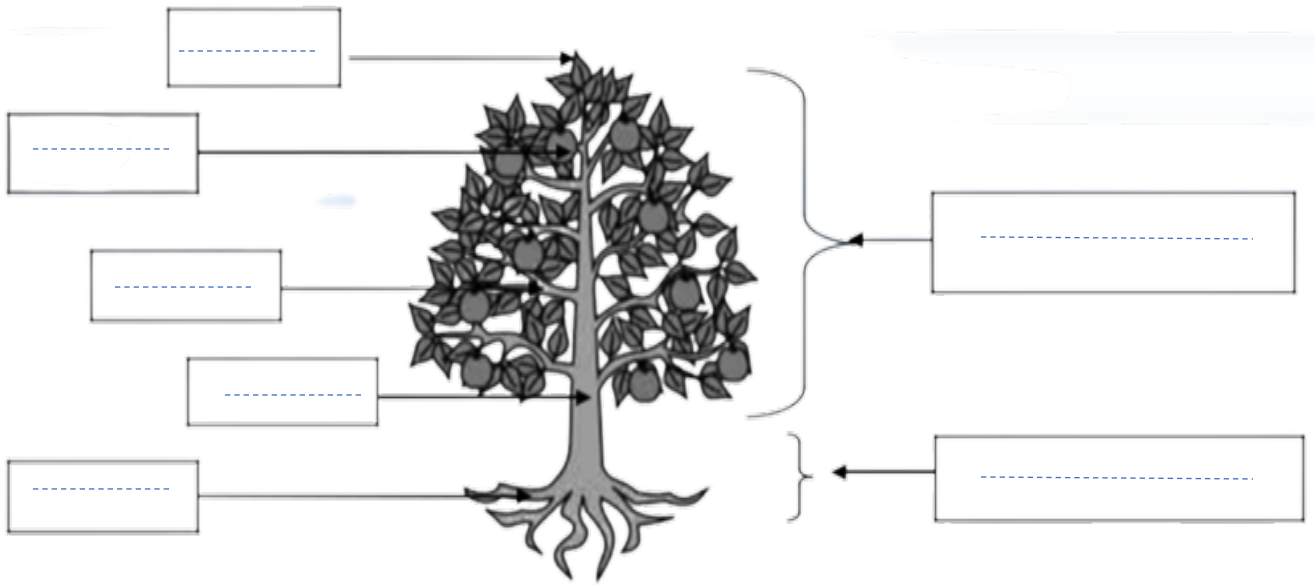


مجموعة مدارس

اسم المتعلم:


1

❖ أكتب اسم كل جزء للنبتة: جزء تحارضي - أوراق - جذع - جزء هوائي - جذور - أغصان - ثمار



2

❖ أكتب اسم الجزء الذي يؤكل: ثمار - جذور - أوراق - بذور - ساق - أزهار



الجزء الذي يؤكل


❖ أصل بخت النبات بالبطاقة المناسبة:



نبات مزروع

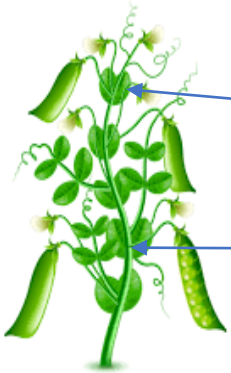


نبات تلقائي



نبات مغروس

❖ ألاحظ الرسم و أملأ الفراغ بالكلمة المناسبة: أوراق - ساق متسلق - ساق تحارضي



نبات الجلبانة



نبات البطاطس